



?

WHO
WHAT



	1	2	3	4
ШУТЛИВЫЕ ВОПРОСЫ	<u>10</u>	<u>10</u>	<u>10</u>	<u>10</u>
РЕБУСЫ	<u>10</u>	<u>10</u>	<u>10</u>	<u>10</u>
ВЫЧИСЛЕНИЕ	<u>10</u>	<u>10</u>	<u>10</u>	<u>10</u>
АНАГРАММА	<u>10</u>	<u>10</u>	<u>10</u>	<u>10</u>
ЛОГИКА	<u>10</u>	<u>10</u>	<u>10</u>	<u>10</u>





СКОЛЬКО КОНЦОВ У ТРЁХ С
ПОЛОВИНОЙ ПАЛОК?

8





У треугольника 3 угла. Если
один срезать сколько
останется?

4





Пять ворохов сена и семь
ворохов сена свезли вместе.
Сколько получилось ворохов
сена?

1





На одной руке 5 пальцев, на
двух 10, а на 10 сколько?

50



ОЛЬЩДАП

ПЛОЩАДЬ



МАЕМАКИТАТ

МАТЕМАТИКА



ОДИРЪ

ДРОБИ



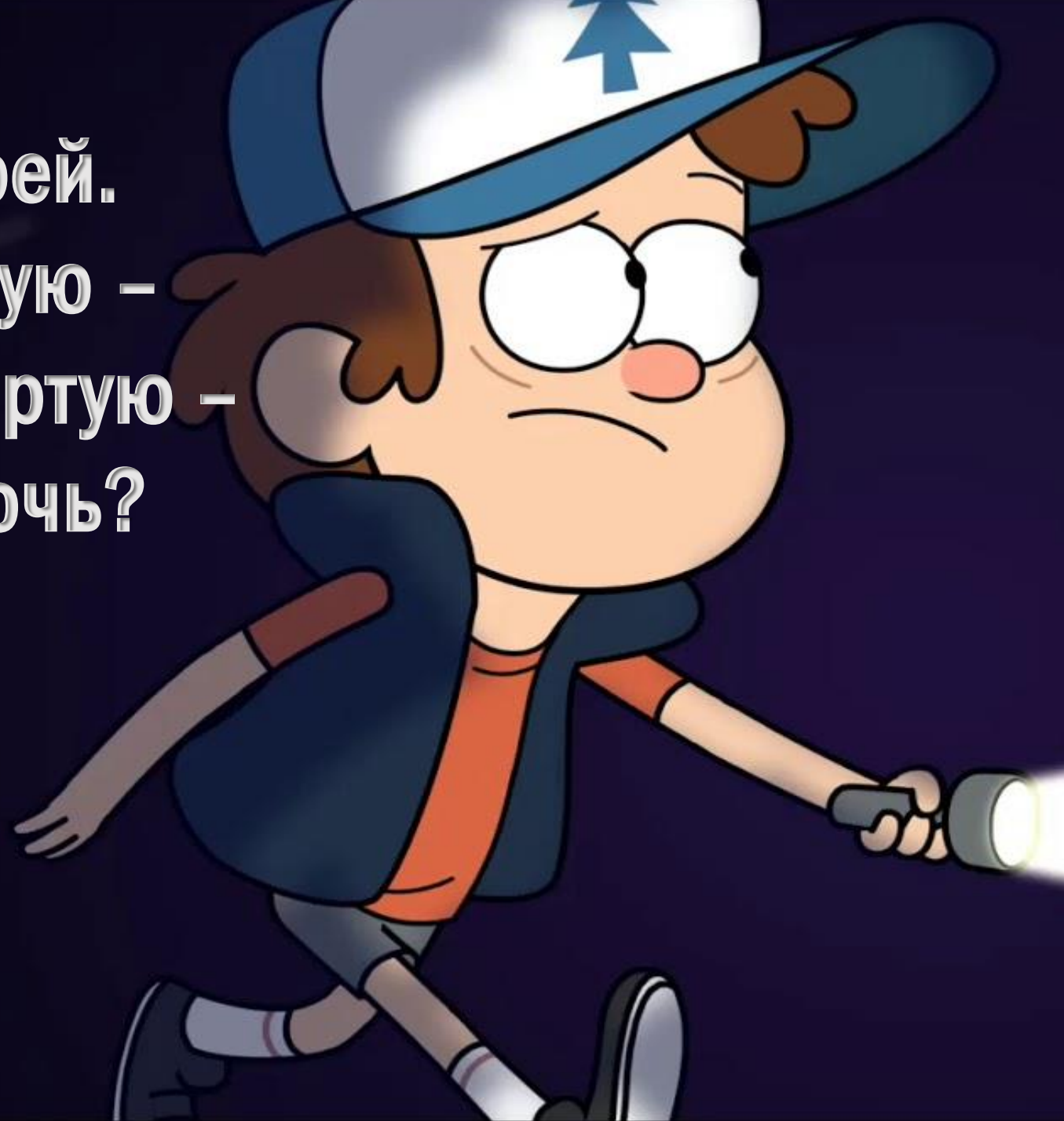
TOBTE

OTBET



У отца Мэри пять дочерей.
Первую зовут Чача, вторую –
Чече, третью – Чичи, четвёртую –
Чочо. Как зовут пятую дочь?

МЭРИ



Если в 12 часов ночи идет
дождь, то можно ли ожидать,
что через 48 часов будет
солнечная погода?

НЕТ, БУДЕТ ПОЛНОЧЬ



В семье 5 сыновей и у
каждого есть сестра. Сколько
детей в этой семье?

6



Что больше 20 см
или 2 дм?

РАВНЫ




ДА



“““

ЗАДАЧА






+ ИК

и = а

ЛАСТИК





ЧИСЛО





ДОЛЯ



Петух на одной ноге
весит 4 кг.
А на двух?

4 кг.



Двое играли в шахматы 4
часа. Сколько времени
играл каждый?

4 часа



Шла старушка в Москву, а
навстречу ей три старика.

Сколько человек шло в
Москву?

1 ЧЕЛОВЕК



Соперник нолика

КРЕСТИК



